

Jokaista eläintä vastaa yksi numero.
Minkä eläimen kuva puuttuu laskuista?



1



2



3




4



+




=



-



=



+




=



-



=



voit leikata eläinten kuvat
tästä ja liimata oikeisiin
kohtiin!